

2019 年高中数学联赛模拟试题（一）参考答案

一、填空题（每小题 7 分，共 56 分）

1、若 $y = \log_{2016}(x^2 - ax + 65)$ 的值域为 R^+ ，那么 a 的取值范围是_____。答案：
 $-16 < a < 16$ 。

解：由值域 $y \in R^+$ ， $\therefore x^2 - ax + 65 > 1$ ， $\Rightarrow x^2 - ax + 64 > 0$

$\therefore \Delta = a^2 - 4 \cdot 64 < 0$ ， $\therefore -16 < a < 16$ 。

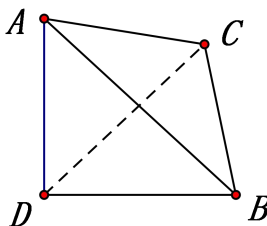
2、四面体 $ABCD$ 中， $\triangle ABC$ 是一个正三角形， $AD = BD = 2$ ， $AD \perp BD$ ，

$AD \perp CD$ ，则 D 到面 ABC 的距离为_____。答案： $\frac{2\sqrt{3}}{3}$ 。

解：如图，据题意得， $AB = \sqrt{AD^2 + BD^2} = 2\sqrt{2}$ ，

于是 $BC = CA = AB = 2\sqrt{2}$ ， $CD = \sqrt{AC^2 - AD^2} = 2$ ，

因 $BC^2 = BD^2 + CD^2$ ，得 $BD \perp CD$ ，从而以 D



为顶点的三面角是三直三面角，

四面体体积 $V = \frac{1}{3}AD \cdot S_{\triangle BCD} = \frac{4}{3}$ ，而 $S_{\triangle ABC} = \frac{\sqrt{3}}{4} \cdot AB^2 = 2\sqrt{3}$ ，

若设 D 到面 ABC 的距离为 h ，则 $V = \frac{1}{3}h \cdot S_{\triangle ABC} = \frac{2\sqrt{3}}{3}h$ ，由 $\frac{2\sqrt{3}}{3}h = \frac{4}{3}$ ，

得到 $h = \frac{2\sqrt{3}}{3}$ 。

3、若对于所有的正数 x, y ，均有 $\sqrt{x} + \sqrt{y} \leq a\sqrt{x+y}$ ，则实数 a 的最小值是_____。答案：
 $\sqrt{2}$ 。

解：由 $\left(\frac{\sqrt{x}}{\sqrt{x+y}}\right)^2 + \left(\frac{\sqrt{y}}{\sqrt{x+y}}\right)^2 = 1$ ，得 $\frac{\sqrt{x}}{\sqrt{x+y}} + \frac{\sqrt{y}}{\sqrt{x+y}} \leq \sqrt{2}$ ，

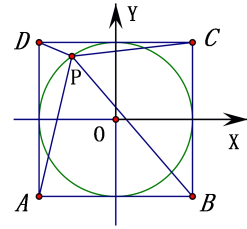
当 $x = y$ 时取等号。

4、已知 P 是正方形 $ABCD$ 内切圆上的一点，记 $\angle APC = \alpha$ ， $\angle BPD = \beta$ ，则

$\tan^2 \alpha + \tan^2 \beta =$ _____ . 答案: 8 .

解: 如图建立直角坐标系, 设圆方程为 $x^2 + y^2 = r^2$,

则正方形顶点坐标为 $A(-r, -r), B(r, -r), C(r, r), D(-r, r)$,



若点 P 的坐标为 $P(r \cos \theta, r \sin \theta)$, 于是直线

PA, PB, PC, PD 的斜率分别为

$$k_{PA} = \frac{1 + \sin \theta}{1 + \cos \theta}, k_{PB} = -\frac{1 + \sin \theta}{1 - \cos \theta}, k_{PC} = \frac{1 - \sin \theta}{1 - \cos \theta}, k_{PD} = -\frac{1 - \sin \theta}{1 + \cos \theta},$$

$$\text{所以 } \tan^2 \alpha = \left(\frac{k_{PC} - k_{PA}}{1 + k_{PA}k_{PC}} \right)^2 = 4(\cos \theta - \sin \theta)^2,$$

$$\tan^2 \beta = \left(\frac{k_{PD} - k_{PB}}{1 + k_{PB}k_{PD}} \right)^2 = 4(\cos \theta + \sin \theta)^2,$$

由此立得 $\tan^2 \alpha + \tan^2 \beta = 8$.

解2: 取特例, P 在坐标轴上, 则 $\alpha = \beta$,

$$\text{这时, } \tan \alpha = \cot \beta = \frac{2}{1} = 2 = \tan \beta, \therefore \tan^2 \alpha + \tan^2 \beta = 2^2 + 2^2 = 8$$

5、等差数列 $2, 5, 8, \dots, 2015$ 与 $4, 9, 14, \dots, 2014$ 的公共项 (具有相同数值的项) 的个数是 _____ . 答案: 134 .

解: 将两个数列中的各项都加1, 则问题等价于求等差数列 $3, 6, 9, \dots, 2016$ 与等差数列

$5, 10, 15, \dots, 2015$ 的公共项个数: 前者是 $M = \{1, 2, 3, \dots, 2016\}$ 中的全体能被3整除的数,

后者是 M 中的全体能被5整除的数, 故公共项是 M 中的全体能被15整除的数, 这种数有

$$\left[\frac{2016}{15} \right] = 134 \text{ 个.}$$

6、设 x 为锐角, 则函数 $y = \sin x \sin 2x$ 的最大值是 _____ . 答案: $\frac{4\sqrt{3}}{9}$.

解: 由 $y = 2 \sin^2 x \cos x$,

$$\text{得 } y^2 = 4 \sin^4 x \cos^2 x = 2(1 - \cos^2 x)(1 - \cos^2 x) \cdot 2 \cos^2 x$$

$$\leq 2 \left(\frac{(1 - \cos^2 x) + (1 - \cos^2 x) + 2 \cos^2 x}{3} \right)^3 = 2 \cdot \left(\frac{2}{3} \right)^3 = \frac{16}{27},$$

所以 $y \leq \frac{4\sqrt{3}}{9}$. 当 $\cos^2 x = \frac{1}{3}$ 时取得等号.

7、若将前九个正整数1,2,3,4,5,6,7,8,9分别填写于一张3×3方格表的九个格子中,使得每行三数的和,每列三数的和皆为质数,你的填法是

解答:(答案有多种)

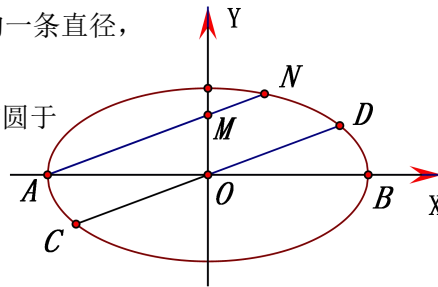
1	7	9
2	6	3
8	4	5

二、解答题(共64分)

8、(14分)如图, CD 是椭圆 $\frac{x^2}{a^2} + \frac{y^2}{b^2} = 1$ 的一条直径,

过椭圆长轴的左顶点 A 作 CD 的平行线, 交椭圆于另一点 N , 交椭圆短轴所在直线于 M ,

证明: $AM \cdot AN = CO \cdot CD$.



证1: 椭圆方程为 $x = a \cos \theta, y = b \sin \theta$,

点 A, N 的坐标为 $A(-a, 0), N(a \cos \theta, b \sin \theta)$, 则直线 AN 方程为

$$\begin{cases} x = -a + t \cos \theta \\ y = t \sin \theta \end{cases}, \dots\dots 3'$$

代入椭圆方程得到 $(b^2 \cos^2 \theta + a^2 \sin^2 \theta)t^2 - 2ab^2 t \cos \theta = 0$,

$$AN = t = \frac{2ab^2 \cos \theta}{b^2 \cos^2 \theta + a^2 \sin^2 \theta}, \quad AM = \frac{a}{\cos \theta} \quad (\theta \neq \frac{\pi}{2}), \dots\dots 6'$$

$$\text{因此 } AM \cdot AN = \frac{2a^2 b^2}{b^2 \cos^2 \theta + a^2 \sin^2 \theta}, \dots\dots 9'$$

又据 $AN \parallel CD$, 则点 C, D 坐标为: $C(-|OD| \cos \theta, -|OD| \sin \theta)$,

$$D(|OD| \cos \theta, |OD| \sin \theta), \dots\dots 12'$$

因为 C, D 在椭圆上, 则 $|CO|^2 = \frac{a^2 b^2}{b^2 \cos^2 \theta + a^2 \sin^2 \theta}$, 而,

$$CO \cdot CD = 2|CO|^2 = \frac{2a^2b^2}{b^2 \cos^2 \theta + a^2 \sin^2 \theta},$$

因此 $AM \cdot AN = CO \cdot CD$. …… 14'

证 2:

易知 CD 的斜率 k 存在, 不妨令 $CD: y = kx$, 与椭圆方程联系,

解得

$$C\left(-\frac{ab}{\sqrt{b^2+a^2k^2}}, \frac{kab}{\sqrt{b^2+a^2k^2}}\right), D\left(\frac{ab}{\sqrt{b^2+a^2k^2}}, \frac{kab}{\sqrt{b^2+a^2k^2}}\right) \dots\dots 3'$$

$$\therefore |CO| = \frac{\sqrt{(1+k^2)a^2b^2}}{\sqrt{b^2+a^2k^2}}, |CD| = \frac{\sqrt{4(1+k^2)a^2b^2}}{\sqrt{b^2+a^2k^2}}, \therefore |CO| \cdot |CD| = \frac{2(1+k^2)a^2b^2}{b^2+a^2k^2} \dots\dots 6'$$

AN 方程为: $y = k(x+a), \therefore M(0, ka)$.

将 AN 方程与椭圆方程联立, 得 $(b^2+a^2k^2)x^2 + 2a^3k^2x + k^2a^2 - a^2b^2 = 0$

$$\therefore x_A + x_N = -\frac{2a^3k^2}{b^2+a^2k^2}, \therefore x_N = \frac{ab^2 - a^3k^2}{b^2+a^2k^2} \dots\dots 9'$$

$$y_N = \frac{2kab^2}{b^2+a^2k^2}, \therefore |AM| = a\sqrt{1+k^2} \dots\dots 12'$$

$$|AN| = \sqrt{\left(\frac{ab^2 - a^3k^2}{b^2+a^2k^2} + a\right)^2 + \frac{4k^2a^2b^4}{(b^2+a^2k^2)^2}} = \frac{2ab^2\sqrt{1+k^2}}{b^2+a^2k^2},$$

$$\therefore |AM| \cdot |AN| = \frac{2a^2b^2(1+k^2)}{b^2+a^2k^2} = |CO| \cdot |CD| \dots\dots 14'$$

9、(15分) 设 x, y, z 为正数, 满足: $xy + yz + zx = 1$, 证明:

$$xyz(x+y)(y+z)(x+z) \geq (1-x^2)(1-y^2)(1-z^2)$$

证: 据条件, 即要证 $xyz(x+y+z-xyz) \geq (1-x^2)(1-y^2)(1-z^2)$ ①

$$\text{也即 } xyz(x+y+z) \geq 1 - (x^2 + y^2 + z^2) + (x^2y^2 + y^2z^2 + x^2z^2) \quad \text{②} \dots\dots 3'$$

将此式各项齐次化, 因为 $1 = (xy + yz + xz)^2 = x^2y^2 + y^2z^2 + x^2z^2 + 2xyz(x+y+z)$ ……

6'

$$x^2 + y^2 + z^2 = (x^2 + y^2 + z^2)(xy + yz + xz) =$$

$$x^3(y+z) + y^3(x+z) + z^3(x+y) + xyz(x+y+z) \text{ 代入②,}$$

只要证 $xyz(x+y+z) \geq$

$$2(x^2y^2 + y^2z^2 + x^2z^2) - x^3(y+z) + y^3(x+z) + z^3(x+y) + xyz(x+y+z) \text{ 即}$$

$$x^3(y+z) + y^3(x+z) + z^3(x+y) - 2(x^2y^2 + y^2z^2 + x^2z^2) \geq 0 \cdots\cdots 12'$$

$$\text{也即 } xy(x-y)^2 + yz(y-z)^2 + xz(x-z)^2 \geq 0.$$

此为显然，故命题得证. $\cdots 15'$

证 2: 由题设得:

$$y(x+z) = 1 - zx, x(y+z) = 1 - yz, z(x+y) = 1 - xy,$$

三式相乘，故原不等式等价于证明:

$$(1 - zx)(1 - yz)(1 - xy) \geq (1 - x^2)(1 - y^2)(1 - z^2) \cdots\cdots 3'$$

上式两边展开并化简得:

$$x^2 + y^2 + z^2 - (xy + yz + zx) \geq x^2y^2 + y^2z^2 + z^2x^2 - (x^2yz + xy^2z + xyz^2) \cdots\cdots 6'$$

配方得:

$$(x-y)^2 + (y-z)^2 + (z-x)^2 \geq (xy - xz)^2 + (yz - xy)^2 + (yz - zx)^2$$

$$= x^2(y-z)^2 + y^2(z-x)^2 + z^2(x-y)^2 \cdots\cdots 9'$$

$$\text{即 } (1 - z^2)(x-y)^2 + (1 - x^2)(y-z)^2 + (1 - y^2)(z-x)^2 \geq 0 (*) \cdots\cdots 12'$$

$$\because 0 < x, y, z < 1, \therefore 1 - x^2 > 0, 1 - y^2 > 0, 1 - z^2 > 0,$$

$$\therefore (*) \text{ 显然成立.} \cdots\cdots 15'$$

10、(20分) 设集合 $A = \{1, 2, \dots, 2016\}$ ，对于 A 的任一个 1008 元子集 X ，若存在 $x, y \in X$ ，满足 $x < y, x|y$ ，则称 X 为“好集”，求最大的正整数 a ，($a \in A$)，使得任一个含 a 的 1008 元子集皆为“好集”。

解：因任何正整数 n 可以表为 $n = 2^\alpha t$ 形式，其中 $\alpha \in N$ ， t 为正奇数，于是集合 A 可划分为以下 1008 个子集：

$$A_j = \{m \mid m = 2^\alpha (2j-1), \alpha \in N, 1 \leq m \leq 2016\}, \quad j = 1, 2, \dots, 1008 \dots\dots 4'$$

对于集合 A 的任一个 1008 元子集 X ，只要集 X 中含有某一个 A_j 中的至少两个元素 $x, y, (x < y)$ ，因 $x = 2^{k_1}(2j-1), y = 2^{k_2}(2j-1)$ ， $k_1 < k_2$ ，则 $x|y$ ；此时 X 为好集；

以下证明正整数 a 的最大值为 671： $\dots\dots 8'$

若 $a = 671$ 时，对于 A 的任一个 1008 元子集 X ，如果 X 中含有某个 A_j 中的至少两个元素，则 X 便是好集；如果 $\{A_j\}$ 中的 1008 个集合，每个集合中恰有一个元素在 X 中，那么 A_{1007} 也有一个元素在 X 中，

但 $A_{1007} = \{2013\}$ 为单元素集，于是 $2013 \in X$ ，而 $a|2013$ ，($2013 = 671 \times 3 = 3a$)，这说明 X 仍是好集，

因此 $a = 671$ 合于要求。 $\dots\dots 12'$

下面说明当 $a \geq 672$ 时，存在含 a 的集 X 不是好集；分两种情况：

(1)、若 $a \geq 1009$ ，取 1008 元集 $X_0 = \{1009, 1010, \dots, 2016\}$ ，则 $a \in X_0$ ，

因 X_0 中任两个不同元素 $x < y$ ，均有 $x \nmid y$ ，故 X_0 不为好集，这种 a 不合要求。 $\dots\dots 15'$

(2)、若 $672 \leq a \leq 1008$ ，记 $X_1 = \{672 + j \mid j = 0, 1, \dots, 336\}$ ，

$X_2 = X_0 \setminus \{2(672 + j) \mid j = 0, 1, \dots, 336\}$ ，令 $X = X_1 \cup X_2$ ，则 $|X| = 1008$ ，且 $a \in X_1$ ，

若 X 中存在 $x < y, x|y$ ，因 $x \geq 672$ ， $y \leq 2016$ ，则 $y \leq 3x$ ；

若 $x = 672$ ，如果 $x|y, x < y$ ，只有 $y = 2x$ 或者 $y = 3x$ ，此时 y 的取值只能是：

$y = 2 \times 672 = 1344$ ，或者 $y = 3 \times 672 = 2016$ ；由于

$1344 = 2(672 + 0), 2016 = 2(672 + 336)$ ，这说明，这两个数已被挖去，不在集合 X 中； $\dots\dots 18'$

若 $x > 672$ ，假若 $x|y$ ，只有 $y = 2x$ ，这种数 y 也已悉数被挖去，即 $y \notin X$ ，因此 X 不是好集，这种 a 也不合要求。

综上所述， a 的最大值为 671。 $\dots\dots 20'$

(本试题来源于百度文库)

自主招生在线创始于 2014 年，是专注于自主招生、学科竞赛、全国高考的升学服务平台，旗下拥有网站和微信两大媒体矩阵，关注用户超百万，用户群体涵盖全国 90% 以上的重点中学老师、家长和考生，引起众多重点高校的关注。

如需第一时间获取相关资讯及备考指南，请关注自主招生在线官方微信号：[zizzsw](https://www.zizzs.com)。



微信扫一扫，快速关注