

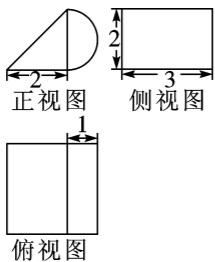
2018全国高考模拟卷九

本试卷分为两卷,第 I 卷为选择题,第 II 卷为非选择题,满分 150 分,考试时间 120 分钟.

第 I 卷(选择题 共 60 分)

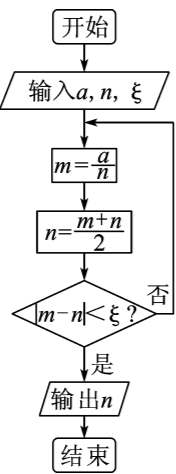
一、选择题(本大题共 12 小题,每小题 5 分,共 60 分.在每小题给出的四个选项中,只有一项是符合题目要求的)

- 已知集合 $A = \{x | x^2 - 2x - 3 \leq 0\}$, $B = \{x | y = \ln(2 - x)\}$, 则 $A \cap B =$ ()
A. (1,3) B. (1,3] C. [-1,2) D. (-1,2)
- 复数 z 满足 $\frac{1+i}{1-i} \cdot z = 3 + 4i$, 则 $|z| =$ ()
A. $2\sqrt{6}$ B. $\sqrt{7}$ C. $5\sqrt{2}$ D. 5
- 已知 \mathbf{R} 上的奇函数 $f(x)$ 满足:当 $x > 0$ 时, $f(x) = x^2 + x - 1$, 则 $f[f(-1)] =$ ()
A. -1 B. 1 C. 2 D. -2
- 某几何体的三视图如图所示(单位:cm), 则该几何体的体积等于() cm^3 .
A. $4 + \frac{2}{3}\pi$
B. $4 + \frac{3}{2}\pi$
C. $6 + \frac{2}{3}\pi$
D. $6 + \frac{3}{2}\pi$



第 4 题图

- 下列命题正确的个数为 ()
①“ $\forall x \in \mathbf{R}$ 都是 $x^2 \geq 0$ ”的否定是“ $\exists x_0 \in \mathbf{R}$ 使得 $x_0^2 \leq 0$ ”;
②“ $x \neq 3$ ”是“ $|x| \neq 3$ ”成立的充分条件;
③命题“若 $m \leq \frac{1}{2}$, 则方程 $mx^2 + 2x + 2 = 0$ 有实数根”的否命题为真命题.
A. 0 B. 1 C. 2 D. 3
- 美索不达米亚平原是人类文明的发祥地之一.美索不达米亚人善于计算,他们创造了优良的计数系统,其中开方算法是最具有代表性的.程序框图如图所示,若输入 a, n, ξ 的值分别为 8, 2, 0.5, (每次运算都精确到小数点后两位) 则输出结果为 ()
A. 2.81 B. 2.82 C. 2.83 D. 2.84



第 6 题图

7. 随着国家二孩政策的全面放开,为了调查一线城市和非一线城市的二孩生育意愿,某机构用简单随机抽样方法从不同地区调查了 100 位育龄妇女,结果如右图.

	非一线	一线	总计
愿生	45	20	65
不愿生	13	22	35
总计	58	42	100

附表:

$P(K^2 \geq k)$	0.050	0.010	0.001
k	3.841	6.635	10.828

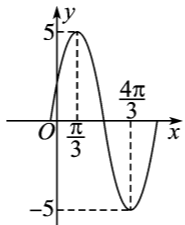
由 $K^2 = \frac{n(ad-bc)^2}{(a+b)(c+d)(a+c)(b+d)}$ 算得,
 $K^2 = \frac{100 \times (45 \times 22 - 20 \times 13)^2}{58 \times 42 \times 35 \times 65} \approx 9.616$

- 参照附表,得到的正确结论是 ()
- 在犯错误的概率不超过 0.1% 的前提下,认为“生育意愿与城市级别有关”
 - 在犯错误的概率不超过 0.1% 的前提下,认为“生育意愿与城市级别无关”
 - 有 99% 以上的把握认为“生育意愿与城市级别有关”
 - 有 99% 以上的把握认为“生育意愿与城市级别无关”

- 若 x, y 满足条件 $\begin{cases} x + y - 2 \geq 0 \\ x - 2y + 6 \geq 0 \\ x \leq 2 \end{cases}$, 则目标函数 $z = x^2 + y^2$ 的最小值是 ()
A. $\sqrt{2}$ B. 2 C. 4 D. $\frac{68}{9}$

- 已知 $A(1, 2), B(2, 11)$, 若直线 $y = (m - \frac{6}{m})x + 1 (m \neq 0)$ 与线段 AB 相交, 则实数 m 的取值范围是 ()
A. $[-2, 0) \cup [3, +\infty)$ B. $(-\infty, -1] \cup (0, 6]$
C. $[-2, -1] \cup [3, 6]$ D. $[-2, 0) \cup (0, 6]$

- 已知函数 $f(x) = A \sin(\omega x + \varphi) (0 < \varphi < \pi)$ 的部分图像如下图所示, 若 $f(x_0) = 3, x_0 \in (\frac{\pi}{3}, \frac{5\pi}{6})$, 则 $\sin x_0$ 的值为 ()
A. $\frac{3\sqrt{3} + 4}{10}$ B. $\frac{3\sqrt{3} - 4}{10}$
C. $\frac{3 + 4\sqrt{3}}{10}$ D. $\frac{3 - 4\sqrt{3}}{10}$



- 设双曲线 $\frac{x^2}{a^2} - \frac{y^2}{b^2} = 1 (a > 0, b > 0)$ 的左焦点为 F_1 , 左顶点为 A , 过 F_1 作 x 轴的垂线交双曲线于 P, Q 两点, 过 P 作 PM 垂直 QA 于 M , 过 Q 作 QN 垂直 PA 于 N , 设 PM 与 QN 的交点为 B . 若 B 到直线 PQ 的距离大于 $a + \sqrt{a^2 + b^2}$, 则该双曲线的离心率的取值范围是 ()
A. $(1, \sqrt{2})$ B. $(\sqrt{2}, +\infty)$
C. $(1, 2\sqrt{2})$ D. $(2\sqrt{2}, +\infty)$
- 若函数 $f(x) = [x^3 + 3x^2 + (a+6)x + 6 - a]e^{-x}$ 在区间 $(2, 4)$ 上存在极大值点, 则实数 a 的取值范围是 ()
A. $(-\infty, -32)$ B. $(-\infty, -27)$
C. $(-32, -27)$ D. $(-32, -27]$

第 II 卷(非选择题 共 90 分)

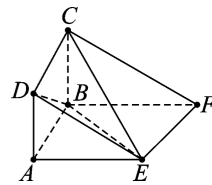
二、填空题(本大题共 4 小题,每小题 5 分,共 20 分)

- $(1 - \frac{1}{x})(1+x)^4$ 的展开式中 x^2 项的系数为 _____.
- $\int_0^1 (2x + \sqrt{1-x^2}) dx =$ _____.
- 已知半径为 1 的球 O 内切于正四面体 $A-BCD$, 线段 MN 是球 O 的一条动直径 (M, N 是直径的两端点), 点 P 是正四面体 $A-BCD$ 的表面上一个动点, 则 $\vec{PM} \cdot \vec{PN}$ 的取值范围是 _____.
- $\triangle ABC$ 中, $\sin(A-B) = \sin C - \sin B$, D 是边 BC 的一个三等分点(靠近点 B), 记 $\frac{\sin \angle ABD}{\sin \angle BAD} = \lambda$, 则当 λ 取最大值时, $\tan \angle ACD =$ _____.

三、解答题(本大题共 6 小题,共 70 分.解答应写出必要的文字说明、证明过程或演算步骤)

- (本小题满分 12 分)
等差数列 $\{a_n\}$ 的前 n 项和为 S_n , 数列 $\{b_n\}$ 是等比数列, 满足 $a_1 = 3, b_1 = 1, b_2 + S_2 = 10, a_5 - 2b_2 = a_3$.
(I) 求数列 $\{a_n\}$ 和 $\{b_n\}$ 的通项公式;
(II) 令 $c_n = a_n \cdot b_n$, 设数列 $\{c_n\}$ 的前 n 项和为 T_n , 求 T_n .

- (本小题满分 12 分)
在如图所示的多面体 $ABCDEF$ 中, 四边形 $ABCD$ 为正方形, 底面 $ABFE$ 为直角梯形, $\angle ABF$ 为直角, $AE \parallel BF, AB = \frac{1}{2}BF = 1$, 平面 $ABCD \perp$ 平面 $ABFE$.
(I) 求证: $DB \perp EC$;
(II) 若 $AE = AB$, 求二面角 $C-EF-B$ 的余弦值.



- (本小题满分 12 分)
一个正四面体的“骰子”(四个面分别标有 1, 2, 3, 4 四个数了), 掷一次“骰子”三个侧面的数字的和为“点数”, 连续抛掷“骰子”两次.
(I) 设 A 为事件“两次掷‘骰子’的点数和为 16”, 求事件 A 发生的概率;
(II) 设 X 为两次掷“骰子”的点数之差的绝对值, 求随机变量 X 的分布列和数学期望.

20. (本小题满分12分)

已知椭圆 $C: \frac{x^2}{a^2} + \frac{y^2}{b^2} = 1 (a > b > 0)$ 的离心率为 $\frac{\sqrt{3}}{2}$, F_1, F_2 分别是椭圆的左、右焦点, M 为椭圆上除长轴端点外的任意一点, 且 $\triangle MF_1F_2$ 的周长为 $4 + 2\sqrt{3}$.

(I) 求椭圆 C 的方程;

(II) 过点 $D(0, -2)$ 作直线 l 与椭圆 C 交于 A, B 两点, 点 N 满足 $\vec{ON} = \vec{OA} + \vec{OB}$ (O 为原点), 求四边形 $OANB$ 面积的最大值, 并求此时直线 l 的方程.

21. (本小题满分12分)

已知函数 $f(x) = e^x + ax, (a \in \mathbf{R})$, 其图象与 x 轴交于 $A(x_1, 0), B(x_2, 0)$ 两点, 且 $x_1 < x_2$.

(I) 求 a 的取值范围;

(II) 证明: $f'(\frac{3x_1 + x_2}{4}) < 0$; ($f'(x)$ 为 $f(x)$ 的导函数)

(III) 设点 C 在函数 $f(x)$ 的图象上, 且 $\triangle ABC$ 为等边三角形, 记 $\sqrt{\frac{x_2}{x_1}} = t$, 求 $(t-1)(a+\sqrt{3})$ 的值.

请考生在第 22、23 两题中任选一题作答, 如果多做, 则按所做的第一题记分.

22. (本小题满分10分) 选修4-4: 坐标系与参数方程

以直角坐标系的原点 O 为极点, x 轴的正半轴为极轴建立极坐标系, 已知点 P 的直角坐标为 $(1, 2)$, 点 M 的极坐标为 $(3, \frac{\pi}{2})$, 若直线 l 过点 P , 且倾斜角为 $\frac{\pi}{6}$, 圆 C 以 M 为圆心, 3 为半径.

(I) 求直线 l 的参数方程和圆 C 的极坐标方程;

(II) 设直线 l 与圆 C 相交于 A, B 两点, 求 $|PA| \cdot |PB|$.

23. (本小题满分10分) 选修4-5: 不等式选讲

已知函数 $f(x) = |x+a| + |x+\frac{1}{a}| (a > 0)$.

(I) 当 $a=2$ 时, 求不等式 $f(x) > 3$ 的解集;

(II) 证明: $f(m) + f(-\frac{1}{m}) \geq 4$.

2018全国高考模拟卷九

1. C 【点拨】本题考查集合的交集运算.

【解析】 $A = \{x | x^2 - 2x - 3 \leq 0\}$, 可化为 $A = \{x | -1 \leq x \leq 3\}$. $B = \{x | y = \ln(2-x)\}$ 可化为 $B = \{x | 2-x > 0\} = \{x | x < 2\}$. $A \cap B = [-1, 2)$. \therefore C 选项正确.

2. D 【点拨】本题考查复数除法以及模的计算.

【解析】由 $\frac{1+i}{1-i} \cdot z = 3+4i$

可得 $z = \frac{(3+4i)(1-i)}{1+i} = \frac{3-3i+4i-4i^2}{1+i} = \frac{7+i}{1+i} =$

$$\frac{(7+i)(1-i)}{(1+i)(1-i)} = \frac{7-7i+i-i^2}{2} = \frac{8-6i}{2} = 4-3i$$

$\therefore |z| = \sqrt{4^2 + (-3)^2} = 5$. \therefore D 选项正确.

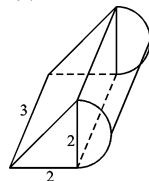
3. A 【点拨】本题考查奇函数的基本性质.

【解析】 $\because f(x)$ 为奇函数, $\therefore f(-1) = -f(1) = -[1^2 + 1 - 1] = -1$, $\therefore f[f(-1)] = f(-1) = -1$. \therefore A 选项正确.

4. D 【点拨】本题考查三视图的还原.

【解析】由三视图可知, 该几何体为一个三棱柱和一个半圆柱的复合体.

$$V = V_{\text{柱}} + V_{\text{圆柱}} = \frac{1}{2} \times 2 \times 2 \times 3 + \frac{1}{2} \times \pi \cdot 1^2 \times 3 = 6 + \frac{3\pi}{2}$$



\therefore D 选项正确.

5. B 【点拨】本题考查命题的否定形式, 命题真假的判定.

【解析】①选项中“ $\forall x \in \mathbf{R}$ 都有 $x^2 \geq 0$ ”的否定为“ $\exists x_0 \in \mathbf{R}$, 使得 $x_0^2 < 0$ ”, \therefore ①式错误. ②选项中当 $x = -3$ 时无法推出 $|x| \neq 3$, \therefore 由 $x \neq 3$ 不能推出 $|x| \neq 3$, \therefore “ $x \neq 3$ ”是“ $|x| \neq 3$ ”的不充分条件. ③选项中原命题的否命题为“若 $m > \frac{1}{2}$, 则方程 $mx^2 + 2x + 2 = 0$ 无实数根.” $\therefore \Delta = 4 - 4m \cdot 2 = 4 - 8m < 0$, \therefore 无实数根. \therefore ③式正确. \therefore B 选项正确.

6. D 【点拨】本题考查程序框图的计算.

【解析】程序第一次运行时 $\begin{cases} m = \frac{8}{2} = 4 \\ n = \frac{4+2}{2} = 3 \end{cases}$ 此时 $|m-n| = 1 > \xi$,

程序第二次运行时, $m = \frac{8}{3} \approx 2.67, n = \frac{2.67+3}{2} \approx 2.84$. 此时 $|m-n| = 0.17 < \xi$, \therefore 输出 $n = 2.84$. \therefore D 选项正确.

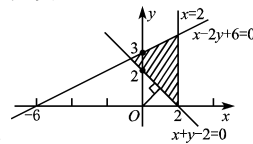
注: 本题要注意, 题干中要求“每次运算都精确到小数点后两位”, 在计算 m 的值时应当化为小数, 不能用分数来表示.

7. C 【点拨】本题考查 K^2 检验的基本概念.

【解析】B 选项应为“在犯错误的概率不超过 1% 的前提下, 认为生育意愿与城市级别无关”, 而不是 0.1%. \therefore C 选项正确.

8. B 【点拨】本题考查线性规划的基本性质.

【解析】作出可行域如图所示, $z = x^2 + y^2$ 可看作点 $(0, 0)$ 到可行域内的点 (x, y) 之间距离的平方. 由图可知点 $(0, 0)$ 到可行域中点的最短距离为图中垂线段的长, 即 $(0, 0)$ 到 $x + y - 2 = 0$ 的距离. $\therefore z_{\min} = \left(\frac{|-2|}{\sqrt{1+1}}\right)^2 = 2$. \therefore 选项 B 正确.



9. C 【点拨】本题考查两直线间位置关系问题, 需要数形结合来分析.

【解析】 \because 直线 $y = (m - \frac{6}{m})x + 1$ 与线段 AB 相交, \therefore 点 A, B

分别位于直线 $y = (m - \frac{6}{m})x + 1$ 的左右两侧. \therefore 由线性规划

的知识可知, $[(m - \frac{6}{m}) \cdot 1 + 1 - 2] \cdot [(m - \frac{6}{m}) \cdot 2 + 1 - 11] \leq 0$, $\therefore (m - \frac{6}{m})^2 - 6(m - \frac{6}{m}) + 5 \leq 0$, $\therefore 1 \leq m - \frac{6}{m} \leq 5$.

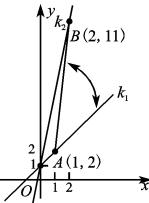
解得 $-2 \leq m \leq -1$ 或 $3 \leq m \leq 6$. \therefore C 选项正确.

法 2: 作出直线与点 A, B 的情况如下图.

直线 $y = (m - \frac{6}{m})x + 1$ 过定点 $(0, 1)$ 要使直线与线段 AB 相交, 则由图可知应当满足直线的斜率位于 k_1 与 k_2 之间. $\therefore k_1 \leq m - \frac{6}{m} \leq k_2$.

$\therefore k_1 = \frac{2-1}{1-0} = 1, k_2 = \frac{11-1}{2-0} = 5$. $\therefore 1 \leq m - \frac{6}{m}$

≤ 5 . \therefore 解得 $m \in [-2, -1] \cup [3, 6]$. \therefore C 选项正确.



10. A 【点拨】本题考查利用三角函数图象求表达式, 以及凑角

求值.

【解析】由图中三角函数的图象可得
$$\begin{cases} \frac{\pi}{3}\omega + \varphi = \frac{\pi}{2} \\ \frac{4\pi}{3}\omega + \varphi = \frac{3\pi}{2} \end{cases}$$

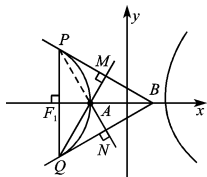
$$\therefore \begin{cases} \omega = 1 \\ \varphi = \frac{\pi}{6} \end{cases}$$

$$A = 5, \therefore f(x) = 5\sin(x + \frac{\pi}{6}), \therefore f(x_0) = 3, \therefore 5\sin(x_0 + \frac{\pi}{6}) = 3. \therefore \sin(x_0 + \frac{\pi}{6}) = \frac{3}{5}. \therefore \frac{\pi}{3} < x_0 < \frac{5}{6}\pi, \therefore \frac{\pi}{2} < x_0 + \frac{\pi}{6} < \pi. \therefore \cos(x_0 + \frac{\pi}{6}) = -\frac{4}{5}.$$

$$\therefore \sin x_0 = \sin[(x_0 + \frac{\pi}{6}) - \frac{\pi}{6}] = \sin(x_0 + \frac{\pi}{6}) \cdot \frac{\sqrt{3}}{2} - \cos(x_0 + \frac{\pi}{6}) \cdot \frac{1}{2} = \frac{3}{5} \cdot \frac{\sqrt{3}}{2} - (-\frac{4}{5}) \cdot \frac{1}{2} = \frac{3\sqrt{3} + 4}{10}. \therefore A \text{ 选项正确.}$$

11. B 【点拨】本题考查双曲线的几何性质.

【解析】由对称性可知,点B必位于x轴上,又 $\angle PAF_1 = \angle BAN, \angle BAN = \angle BQF_1, \therefore \angle PAF_1 = \angle BQF_1, \therefore \text{Rt} \triangle PAF_1 \sim \text{Rt} \triangle BQF_1$. 由图可知: $|AF_1| = c - a, |PF_1| = \frac{b^2}{a}. \therefore \text{Rt} \triangle PAF_1 \sim \text{Rt} \triangle BQF_1, \therefore \frac{c-a}{\frac{b^2}{a}} = \frac{a}{BF_1}, \therefore BF_1 = \frac{b^4}{a^2 - a^2}. \therefore BF_1 > a + \sqrt{a^2 + b^2}$



$$\Delta BQF_1, \therefore \frac{c-a}{\frac{b^2}{a}} = \frac{a}{BF_1}, \therefore BF_1 = \frac{b^4}{a^2 - a^2}. \therefore BF_1 > a + \sqrt{a^2 + b^2}$$

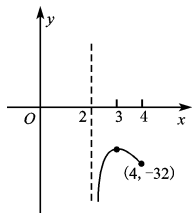
$$= a + c, \therefore \frac{b^4}{a^2 - a^2} > a + c. \therefore \frac{b^4}{a^2} > c^2 - a^2, \therefore \frac{b^2}{a^2} > 1.$$

$$\therefore e = \sqrt{1 + \frac{b^2}{a^2}} > \sqrt{2}. \therefore B \text{ 选项正确.}$$

12. C 【点拨】本题考查函数极值点问题.

【解析】 $f'(x) = e^{-x}[-x^3 - ax + 2a]$ 令 $f'(x) = 0, \therefore -x^3 - ax + 2a = 0. \therefore f(x)$ 在 $(2, 4)$ 上有极大值, $\therefore -x^3 - ax + 2a = 0$ 在 $(2, 4)$ 上有根, $\therefore a = \frac{x^3}{2-x}$, 设 $g(x) = \frac{x^3}{2-x}, \therefore g'(x) = \frac{2x^2(3-x)}{(2-x)^2}, 2 < x < 4. \therefore g(x)$ 在 $(2, 3)$ 上 \uparrow , 在 $(3, 4)$ 上 \downarrow .

$\therefore g(2) = -\infty, g(3) = -27, g(4) = -32,$
 \therefore 作出 $g(x)$ 图象如下



(I) 当 $a < -32$ 时, $y = a$ 与 $g(x)$ 有唯一的一个交点, 不妨设为 x_0 , 则当 $x \in (2, x_0)$ 时, $a > \frac{x^3}{2-x}, \therefore -x^3 + a(2-x) < 0,$

此时 $f'(x) < 0$; 当 $x \in (x_0, 4)$ 时, $a < \frac{x^3}{2-x}, \therefore -x^3 + a(2-x) > 0,$ 此时 $f'(x) > 0; \therefore f(x)$ 在 $(2, x_0)$ 上 $\downarrow, (x_0, 4)$ 上 \uparrow, \therefore 此时 $f(x)$ 无极大值, $\therefore a < -32$ 舍去. (II) 当 $-32 < a < -27$ 时, $y = a$ 与 $g(x)$ 有两个交点, 不妨设 x_1, x_2 , 且 $x_1 < x_2$, 则可判知当 $x \in (2, x_1)$ 时, $a > \frac{x^3}{2-x}$; 当 $x \in (x_1, x_2)$ 时, $a < \frac{x^3}{2-x}$;

当 $x \in (x_2, 4)$ 时, $a > \frac{x^3}{2-x}. \therefore f(x)$ 在 $(2, x_1)$ 上 \downarrow , 在 (x_1, x_2)

上 \uparrow , 在 $(x_2, 4)$ 上 \downarrow , 此时 $f(x)$ 在 $(2, 4)$ 上存在极大值, 满足题意. (III) 当 $a > -27$ 时, $y = a$ 与 $g(x)$ 无交点, 此时 $f(x)$ \downarrow 无极大值. \therefore 综上 $-32 < a < -27. \therefore C$ 选项正确.

13. 2 【点拨】本题考查二项式展开式的通项公式的使用.

【解析】在 $(1 - \frac{1}{x})(1+x)^4$ 的展开式中 x^2 项可看作是 1 乘以 $(1+x)^4$ 中 x^2 项以及 $(-\frac{1}{x})$ 乘以 $(1+x)^4$ 中的 x^3 项构成. \therefore 由 $(1+x)^4$ 的通项公式得 $T_{r+1} = C_4^r 1^{4-r} \cdot x^r = C_4^r x^r$. 令 $r = 2$ 得 x^2 项系数为 C_4^2 ; 令 $r = 3$ 得 x^3 项系数为 C_4^3 ; $\therefore (1 - \frac{1}{x})(1+x)^4$ 展开式中 x^2 项的系数为 $C_4^2 - C_4^3 = 2$.

14. $1 + \frac{\pi}{4}$ 【点拨】本题考查积分的基本性质, 注意带根式的积分要利用几何意义来求.

【解析】 $\int_0^1 (2x + \sqrt{1-x^2}) dx = \int_0^1 2x dx + \int_0^1 \sqrt{1-x^2} dx = x^2 |_0^1 + \int_0^1 \sqrt{1-x^2} dx = 1 + \int_0^1 \sqrt{1-x^2} dx$.

设 $T = \int_0^1 \sqrt{1-x^2} dx$, 令 $y = \sqrt{1-x^2}$.

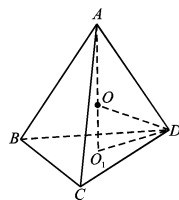
$\therefore x^2 + y^2 = 1 (0 \leq x \leq 1, y \geq 0)$, $\int_0^1 \sqrt{1-x^2} dx$ 的几何意义为 $\frac{1}{4}$ 单位圆的面积.

$$\therefore T = \int_0^1 \sqrt{1-x^2} dx = \frac{1}{4} \pi \cdot 1^2 = \frac{\pi}{4}.$$

$$\therefore \int_0^1 (2x + \sqrt{1-x^2}) dx = 1 + \frac{\pi}{4}.$$

15. $[0, 8]$ 【点拨】本题考查向量数量积的拆分.

【解析】 $\vec{PM} \cdot \vec{PN} = (\vec{PO} + \vec{OM}) \cdot (\vec{PO} + \vec{ON}) = \vec{PO}^2 + \vec{PO} \cdot (\vec{ON} + \vec{OM}) + \vec{OM} \cdot \vec{ON}$
 $\therefore M, O, N$ 三点共线且 $\vec{OM} + \vec{ON} = \vec{0}. \therefore \vec{OM} \cdot \vec{ON} = 1 \cdot 1 \cdot \cos 180^\circ = -1, \therefore \vec{PM} \cdot \vec{PN} = \vec{PO}^2 + 0 - 1 = \vec{PO}^2 - 1.$ 正四面体 $A-BCD$ 的内切球半径为 1. 设四面体 $A-BCD$ 边长为 $a, \therefore \frac{\sqrt{6}}{12} a = 1, \therefore a = 2\sqrt{6}, \therefore \Delta BCD$ 外接圆半径为 $r = 2\sqrt{2}$. 在 $\text{Rt} \triangle OO_1D$ 中, $OD = \sqrt{1 + (2\sqrt{2})^2} = 3, \therefore 1 \leq \vec{PO}^2 \leq |OD|^2, \therefore 1 \leq \vec{PO}^2 \leq 9, \therefore \vec{PM} \cdot \vec{PN} \in [0, 8].$



16. $2 + \sqrt{3}$ 【点拨】本题考查正弦定理的应用.

【解析】由 $\sin(A-B) = \sin C - \sin B$ 可化得 $\sin(A-B) = \sin(A+B) - \sin B. \therefore \sin B = 2\cos A \sin B. \therefore \sin B \neq 0, \therefore \cos A = \frac{1}{2}.$

$\therefore A = 60^\circ$ 设 $BD = a$, 则 $DC = 2a$.

$$\therefore \frac{\sin \angle ABD}{\sin \angle BAD} = \frac{AD}{BD} = \lambda, \therefore AD = \lambda a.$$

$\therefore \angle ADB = \pi - \angle ADC, \therefore \cos \angle ADB = -\cos \angle ADC, \therefore \frac{a^2 + \lambda^2 a^2 - c^2}{2\lambda a^2} = -\frac{\lambda^2 a^2 + 4a^2 - b^2}{2 \cdot 2a\lambda a}, \therefore$ 化得:

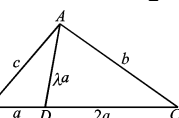
$$6a^2 + 3\lambda^2 a^2 = 2c^2 + b^2 \textcircled{1}, \therefore \cos A = \frac{1}{2}. \therefore \frac{c^2 + b^2 - 9a^2}{2bc} = \frac{1}{2}.$$

$$\therefore 9a^2 = c^2 + b^2 - bc \textcircled{2}$$

$$\textcircled{1} \text{ 得: } \frac{2 + \lambda^2}{3} = \frac{2c^2 + b^2}{c^2 + b^2 - bc} = \frac{2 + \frac{b^2}{c^2}}{1 + \frac{b^2}{c^2} - \frac{b}{c}}$$

$$= \frac{(\frac{b^2}{c^2} - \frac{b}{c} + 1) + \frac{b}{c} + 1}{\frac{b^2}{c^2} - \frac{b}{c} + 1} = 1 + \frac{\frac{b}{c} + 1}{\frac{b^2}{c^2} - \frac{b}{c} + 1}, \text{ 设 } \frac{b}{c} = x$$

$$\therefore \frac{2 + \lambda^2}{3} = 1 + \frac{x + 1}{x^2 - x + 1}, \text{ 令 } x + 1 = t. \therefore \text{上式} = 1 +$$



$$\frac{t}{(t-1)^2 - (t-1) + 1} = 1 + \frac{t}{t^2 - 3t + 3} = 1 + \frac{1}{t + \frac{3}{t} - 3}$$

$$\frac{3}{t} \geq 2\sqrt{3} \therefore \frac{2+\lambda^2}{3} \leq 1 + \frac{1}{2\sqrt{3}-3} \therefore \lambda \leq \sqrt{2\sqrt{3}+4} = \sqrt{3}+1$$
 当

且仅当 $t = \sqrt{3}$ 时 λ 取得最大值, 此时 $\frac{b}{c} + 1 = \sqrt{3} \therefore \frac{\sin B}{\sin C} = \sqrt{3}$

$$-1 \therefore \frac{\sin(60^\circ + C)}{\sin C} = \sqrt{3} - 1 \therefore \frac{\sqrt{3}}{2} \cdot \frac{1}{\tan C} + \frac{1}{2} = \sqrt{3} - 1$$

$$\therefore \tan C = 2 + \sqrt{3}$$

17. 【点拨】(I) 按照等差数列与等比数列的性质列出方程组即可.

(II) 本题考查错位相减的计算.

【解析】(I) 设数列 $\{a_n\}$ 的公差为 d , 数列 $\{b_n\}$ 的公比为 q , 则由 $\begin{cases} b_2 + S_2 = 10, \\ a_5 - 2b_2 = a_3, \end{cases}$ 得 $\begin{cases} q + 6 + d = 10, \\ 3 + 4d - 2q = 3 + 2d, \end{cases}$ 解得 $\begin{cases} d = 2, \\ q = 2, \end{cases}$ 所

以 $a_n = 3 + 2(n-1) = 2n + 1, b_n = 2^{n-1}$.

(II) 由 (I) 可知 $c_n = (2n+1) \cdot 2^{n-1}$,

$$\therefore T_n = 3 \cdot 2^0 + 5 \cdot 2^1 + 7 \cdot 2^2 + \dots + (2n-1) \cdot 2^{n-2} + (2n+1) \cdot 2^{n-1} \textcircled{1}$$

$$2T_n = 3 \cdot 2^1 + 5 \cdot 2^2 + 7 \cdot 2^3 + \dots + (2n-1) \cdot 2^{n-1} + (2n+1) \cdot 2^n \textcircled{2}$$

$$\textcircled{1} - \textcircled{2} \text{ 得: } -T_n = 3 + 2 \cdot 2^1 + 2 \cdot 2^2 + \dots + 2 \cdot 2^{n-1} - (2n+1) \cdot 2^n = 1 + 2 + 2^2 + \dots + 2^n - (2n+1) \cdot 2^n = 2^{n+1} - 1 - (2n+1) \cdot 2^n = (1-2n) \cdot 2^n - 1$$

$$\therefore T_n = (2n-1) \cdot 2^n + 1$$

18. 【点拨】本题考查利用空间直角坐标系求证线线垂直以及二面角的方法.

【解析】(I) \because 底面 $ABFE$ 为直角梯形, $AE \parallel BF, \angle EAB = 90^\circ \therefore AE \perp AB, BF \perp AB \therefore$ 平面 $ABCD \perp$ 平面 $ABFE$, 平面 $ABCD \cap$ 平面 $ABFE = AB \therefore AE \perp$ 平面 $ABCD. BF \perp$ 平面 $ABCD \therefore BF \perp BC$. 设 $AE = t$, 以 BA, BF, BC 所在的直线分别为 x, y, z 轴建立如图坐标系, 则 $B(0, 0, 0), C(0, 0, 1), D(1, 0, 1), E(1, t, 0), \overrightarrow{DB} = (-1, 0, -1), \overrightarrow{EC} = (-1, -t, 1) \therefore \overrightarrow{DB} \cdot \overrightarrow{EC} = 0, \therefore DB \perp EC$.

(II) 由 (I) 知 $\overrightarrow{BC} = (0, 0, 1)$ 是平面 BEF 的一个法向量. 设 $\mathbf{n} = (x, y, z)$ 是平面 CEF 的法向量. $\because AE = AB = 1, \therefore E(1, 1, 0), F(0, 2, 0) \therefore \overrightarrow{CE} = (1, 1, -1), \overrightarrow{CF} = (0, 2, -1)$ 由 $\overrightarrow{CE} \cdot \mathbf{n} = x + y - z = 0, \overrightarrow{CF} \cdot \mathbf{n} = 2y - z = 0$. 令 $z = 2$, 得 $x = 1, y = 1$, 故 $\mathbf{n} = (1, 1, 2)$ 是平面 CEF 的一个法向量.

$$\therefore \cos \langle \mathbf{n}, \overrightarrow{BC} \rangle = \frac{\mathbf{n} \cdot \overrightarrow{BC}}{|\mathbf{n}| \cdot |\overrightarrow{BC}|} = \frac{\sqrt{6}}{3}, \text{ 即二面角 } C-EF-B \text{ 的余弦值为 } \frac{\sqrt{6}}{3}.$$

19. 【点拨】本题考查古典概型的计算.

【解析】(I) 两次点数之和为 16, 即两次的底面数字为: (1, 3), (2, 2), (3, 1), $P(A) = \frac{3}{4 \times 4} = \frac{3}{16}$.

(II) X 的可能取值为 0, 1, 2, 3 且 $P(X=0) = \frac{4}{4 \times 4} = \frac{1}{4}, P(X=1) = \frac{3 \times 2}{4 \times 4} = \frac{3}{8}, P(X=2) = \frac{2 \times 2}{4 \times 4} = \frac{1}{4}, P(X=3) = \frac{2}{4 \times 4} = \frac{1}{8}$, 则 X 的分布列为

X	0	1	2	3
P	$\frac{1}{4}$	$\frac{3}{8}$	$\frac{1}{4}$	$\frac{1}{8}$

$$E(X) = \frac{5}{4}$$

20. 【点拨】(I) 利用椭圆的离心率公式及焦点三角形的周长公式, 求得 a 和 c 的值, $b^2 = a^2 - c^2 = 1$, 即可求得椭圆方程.

(II) $S_{\triangle AOB} = \frac{1}{2} |OD| \cdot |x_1 - x_2| = |x_1 - x_2|$. 将 $S_{\triangle AOB}$ 化成由 k 表示的式子, 求出最值即可.

【解析】(I) $\because e = \frac{c}{a} = \frac{\sqrt{3}}{2}$, 又 $\because \triangle MF_1F_2$ 的周长为 $2a + 2c = 4 + 2\sqrt{3} \therefore a + c = 2 + \sqrt{3} \therefore a = 2, c = \sqrt{3} \therefore a^2 = 4, b^2 = 1$. \therefore 椭圆 C 的方程为 $\frac{x^2}{4} + y^2 = 1$.

(II) $\because \overrightarrow{ON} = \overrightarrow{OA} + \overrightarrow{OB} \therefore$ 四边形 $OANB$ 为平行四边形, 显然直线 l 的斜率存在, 设 l 的方程 $y = kx - 2, A(x_1, y_1), B(x_2, y_2)$, 把 $y = kx - 2$ 代入 $\frac{x^2}{4} + y^2 = 1$ 得 $(1 + 4k^2)x^2 - 16kx + 12$

$$= 0, \text{ 由 } \Delta = 16^2 k^2 - 48(1 + 4k^2) > 0 \text{ 得 } k^2 > \frac{3}{4} \therefore x_1 + x_2 =$$

$$\frac{16k}{1 + 4k^2}, x_1 x_2 = \frac{12}{1 + 4k^2} \therefore S_{\triangle OAB} = \frac{1}{2} |OD| \cdot |x_1 - x_2| = |x_1 - x_2| \therefore S_{OANB} = 2S_{\triangle OAB} = 2|x_1 - x_2| = 2\sqrt{(x_1 + x_2)^2 - 4x_1 x_2} =$$

$$2\sqrt{\left(\frac{16k}{1 + 4k^2}\right)^2 - 4\frac{12}{1 + 4k^2}} = 8\sqrt{\frac{4k^2 - 3}{(1 + 4k^2)^2}}, \text{ 令 } t = 4k^2 - 3 >$$

$$0, \therefore 4k^2 = t + 3, \therefore S_{OANB} = 8\sqrt{\frac{t}{(t + 4)^2}} = 8\sqrt{\frac{1}{8 + t + \frac{16}{t}}}$$

$$\sqrt{\frac{1}{16}} = 2. \text{ 当且仅当 } t = 4, \text{ 即 } k = \pm \frac{\sqrt{7}}{2} \text{ 时取等号, } \therefore (S_{OANB})_{\max}$$

$$= 2, \text{ 此时 } l \text{ 的方程为 } y = \pm \frac{\sqrt{7}}{2}x - 2.$$

21. 【点拨】(I) 分类讨论判断出 $f(x)$ 的单调性, 求出 a 的范围.

(II) 将 $\frac{3x_1 + x_2}{4}$ 放缩成 $\frac{3x_1 + x_2}{4} < \frac{x_1 + x_2}{2}$, 要证 $f'\left(\frac{3x_1 + x_2}{4}\right) <$

0 , 只需证 $f'\left(\frac{x_1 + x_2}{2}\right) < 0$, 利用 $f(x_1) = f(x_2)$ 得出 a 与 x_1, x_2

的关系, 将 $f'\left(\frac{x_1 + x_2}{2}\right)$ 转化为 x_1, x_2 表示的式子, 然后设

$$\frac{x_2 - x_1}{2} = s \text{ 全化为关于 } s \text{ 的函数式, 证明即可.}$$

【解析】(I) $\because f(x) = e^x + ax, \therefore f'(x) = e^x + a$, 若 $a \geq 0$, 则 $f'(x) > 0$, 则函数 $f(x)$ 在 \mathbb{R} 上单调递增, 这与题设矛盾. $\therefore a < 0$ 易知 $f(x)$ 在 $(-\infty, \ln(-a))$ 上单调递减, 在 $(\ln(-a), +\infty)$ 上单调递增, $\therefore f(x)_{\min} = f(\ln(-a)) = -a + a \ln(-a)$. 且 $x \rightarrow -\infty$ 时, $f(x) \rightarrow +\infty$; $x \rightarrow +\infty$ 时, $f(x) \rightarrow +\infty$.

$$\therefore f(\ln(-a)) = -a + a \ln(-a) < 0, \therefore a < -e.$$

$$(II) \because \begin{cases} e^{x_1} + ax_1 = 0 \\ e^{x_2} + ax_2 = 0 \end{cases} \therefore \text{ 两式相减得 } a = -\frac{e^{x_2} - e^{x_1}}{x_2 - x_1}. \text{ 记 } \frac{x_2 - x_1}{2} = s (s > 0), \text{ 则 } f'\left(\frac{x_1 + x_2}{2}\right) = e^{\frac{x_1 + x_2}{2}} - \frac{e^{x_2} - e^{x_1}}{x_2 - x_1} = \frac{e^{\frac{x_1 + x_2}{2}}}{2s} [2s - (e^s - e^{-s})], \text{ 设 } g(s) = 2s - (e^s - e^{-s}), \text{ 则 } g'(s) = 2 - (e^s + e^{-s}) < 0,$$

$$\therefore g(s) \text{ 是单调减函数, 则有 } g(s) < g(0) = 0, \text{ 而 } \frac{e^{\frac{x_1 + x_2}{2}}}{2s} > 0,$$

$$\therefore f'\left(\frac{x_1 + x_2}{2}\right) < 0. \text{ 又 } \because f'(x) = e^x + a \text{ 是单调增函数, 且}$$

$$\frac{3x_1 + x_2}{4} < \frac{x_1 + x_2}{2} \therefore f'\left(\frac{3x_1 + x_2}{4}\right) < f'\left(\frac{x_1 + x_2}{2}\right) < 0.$$

$$(III) \text{ 由 } \begin{cases} e^{x_1} + ax_1 = 0 \\ e^{x_2} + ax_2 = 0 \end{cases} \text{ 得 } \begin{cases} e^{x_1} = -ax_1 \\ e^{x_2} = -ax_2 \end{cases} \therefore e^{\frac{x_1 + x_2}{2}} = -a\sqrt{x_1 x_2},$$

设 $P(x_0, y_0)$, 在等边三角形 ABC 中, 易知 $x_0 = \frac{x_1 + x_2}{2} \in (x_1,$

$x_2), y_0 = f(x_0) < 0$, 由等边三角形性质知 $y_0 = -\frac{\sqrt{3}(x_2 - x_1)}{2}$,

$$\therefore y_0 + \frac{\sqrt{3}(x_2 - x_1)}{2} = 0, \text{ 即 } e^{\frac{x_1 + x_2}{2}} + \frac{a}{2}(x_2 + x_1) + \frac{\sqrt{3}(x_2 - x_1)}{2}$$

$$=0, \therefore -a\sqrt{x_1x_2} + \frac{a}{2}(x_2+x_1) + \frac{\sqrt{3}(x_2-x_1)}{2} = 0, \because x_1 > 0,$$

$$\begin{aligned} \therefore -a\sqrt{\frac{x_2}{x_1}} + \frac{a}{2}\left(\frac{x_2}{x_1}+1\right) + \frac{\sqrt{3}\left(\frac{x_2}{x_1}-1\right)}{2} &= 0, \therefore -at + \frac{a}{2}(t^2 \\ +1) + \frac{\sqrt{3}(t^2-1)}{2} &= 0, (a+\sqrt{3})t^2 - 2at + a - \sqrt{3} = 0, \therefore [(a+\sqrt{3})t + \sqrt{3} - a](t-1) = 0, \text{又} \because t > 1, \therefore (a+\sqrt{3})t + \sqrt{3} - a = 0, \\ \therefore t = \frac{a-\sqrt{3}}{a+\sqrt{3}}, t-1 &= -\frac{2\sqrt{3}}{a+\sqrt{3}}, \\ \therefore (t-1)(a+\sqrt{3}) &= -2\sqrt{3}. \end{aligned}$$

22. 【点拨】本题考查极坐标与直角坐标系的互化, 利用 $|PA| \cdot |PB| = |t_1 t_2|$ 来计算即可.

【解析】(I) 直线 l 的参数方程为
$$\begin{cases} x = 1 + \frac{\sqrt{3}}{2}t, \\ y = 2 + \frac{1}{2}t \end{cases} \quad (t \text{ 为参数}),$$

圆 C 的极坐标方程为 $\rho = 6\sin\theta$.

(II) 圆 C 的直角坐标方程为 $x^2 + (y-3)^2 = 9$, 把

$$\begin{cases} x = 1 + \frac{\sqrt{3}}{2}t \\ y = 2 + \frac{1}{2}t \end{cases} \text{ 代入 } x^2 + (y-3)^2 = 9, \text{ 得 } t^2 + (\sqrt{3}-1)t - 7 = 0,$$

$$\therefore t_1 \cdot t_2 = -7,$$

$$\text{又 } |PA| = |t_1|, |PB| = |t_2|, \therefore |PA| \cdot |PB| = |t_1 t_2| = 7.$$

23. 【点拨】(I) 分类讨论脱去绝对值求解.

(II) 利用“ $|a| + |b| \geq |a+b|$ ”可将 $f(m) + f(-\frac{1}{m})$ 化成

$2|m + \frac{1}{m}|$, 然后用均值不等式即可求得.

【解析】(I) 当 $a=2$ 时, $f(x) = |x+2| + |x + \frac{1}{2}|$, 原不等式等

$$\text{价于 } \begin{cases} x < -2 \\ -x-2-x-\frac{1}{2} > 3 \end{cases} \text{ 或 } \begin{cases} -2 \leq x \leq -\frac{1}{2} \\ x+2-x-\frac{1}{2} > 3 \end{cases} \text{ 或}$$

$$\begin{cases} x > -\frac{1}{2} \\ x+2+x+\frac{1}{2} > 3 \end{cases} \text{ 解得: } x < -\frac{11}{4} \text{ 或 } x \in \emptyset \text{ 或 } x > \frac{1}{4}, \text{ 所以不等}$$

式的解集为 $\{x | x < -\frac{11}{4} \text{ 或 } x > \frac{1}{4}\}$.

$$(II) f(m) + f(-\frac{1}{m}) = |m+a| + |m + \frac{1}{a}| + |-\frac{1}{m} + a| +$$

$$|-\frac{1}{m} + \frac{1}{a}| = |m+a| + |-\frac{1}{m} + a| + |m + \frac{1}{a}| + |-\frac{1}{m} +$$

$$\frac{1}{a}| \geq 2|m + \frac{1}{m}| = 2(|m| + |\frac{1}{m}|) \geq 4.$$