

2002 年 IMO 中国国家集训队选拔考试

一、设凸四边形 $ABCD$ 的两组对边所在的直线分别交于 E, F 两点, 两对角线的交点为 P , 过 P 作 $PO \perp EF$ 于 O . 求证: $\angle BOC = \angle AOD$.

解: 如图 1, 只需证明 OP 既是 $\angle AOC$ 的平分线, 也是 $\angle DOB$ 的平分线即可.

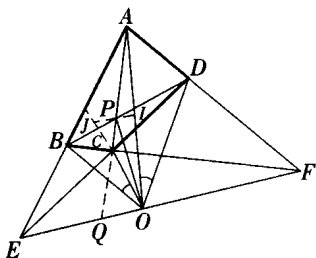


图 1

不妨设 AC 交 EF 于 Q . 考虑 $\triangle AEC$ 和点 F , 由塞瓦定理可得

$$\frac{EB}{BA} \cdot \frac{AQ}{QC} \cdot \frac{CD}{DE} = 1.$$

再考虑 $\triangle AEC$ 与截线 BD , 由梅涅劳斯定理有

$$\frac{ED}{DC} \cdot \frac{CP}{PA} \cdot \frac{AB}{BE} = 1.$$

比较、两式可得

$$\frac{AP}{AQ} = \frac{PC}{QC}.$$

过 P 作 EF 的平行线分别交 OA, OC 于 I, J , 则有

$$\frac{PI}{QO} = \frac{AP}{AQ}, \frac{JP}{QO} = \frac{PC}{QC}.$$

由、可得

$$\frac{PI}{QO} = \frac{JP}{QO} \Rightarrow PI = PJ.$$

又 $OP \perp IJ$, 则 OP 平分 $\angle IOJ$,

即 OP 平分 $\angle AOC$.

同理可证: 当 BD 与 EF 相交时, OP 平分 $\angle DOB$; 而当 $BD \parallel EF$ 时, 过 B 作 ED 的平行线交 AC 于 G (如图 2), 则

$$\frac{AG}{AC} = \frac{AB}{AE} = \frac{AD}{AF}.$$

故 $GD \parallel CF$,

从而, $BCDG$ 为平行

四边形.

于是, P 为 BD 的中

点.

因此, OP 平分

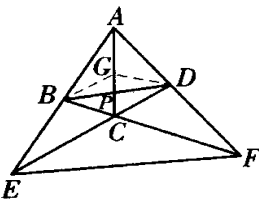


图 2

$\angle DOB$.

二、设 $a_1 = \frac{1}{4}, a_n = \frac{1}{4}(1 + a_{n-1})^2, n \geq 2$. 求最小实数 k , 使得对任意非负实数 $x_1, x_2, \dots, x_{2002}$, 有

$$\sum_{k=1}^{2002} A_k \geq a_{2002}.$$

$$\text{其中 } A_k = \frac{x_k - k}{(x_k + \dots + x_{2002} + \frac{k(k-1)}{2} + 1)^2}, k \geq 1.$$

解: 令 $f(k) = \frac{1}{2}k(k-1)$. 首先证明几个引理.

引理 1 对任意实数 $a \geq 0, c > 0, b > 0$, 函数

$$f(x) = \frac{a}{x+b} + \frac{x-c}{(x+b)^2}.$$

当 $x = \frac{(1-a)b+2c}{1+a}$ 时, 取最大值 $\frac{1}{4} \cdot \frac{(1+a)^2}{b+c}$.

证明: 令 $y = \frac{1}{x+b}$, 则

$$f(x) = -(b+c)y^2 + (1+a)y = -(b+c) \left(y - \frac{1}{2} \frac{1+a}{b+c} \right)^2 + \frac{1}{4} \frac{(1+a)^2}{b+c}.$$

于是, 当 $y = \frac{1}{2} \frac{1+a}{b+c}$, 即 $x = \frac{(1-a)b+2c}{1+a}$ 时,

$$f(x)_{\max} = \frac{1}{4} \frac{(1+a)^2}{b+c}.$$

引理 2 设 $a_1 = \frac{1}{4}, a_n = \frac{1}{4}(1 + a_{n-1})^2, n \geq 2$.

则 a_n 满足 $0 < a_n < 1$.

引理 3 对任意 $n \geq 1, \sum_{k=1}^n A_k \geq \frac{1}{(n+1)+1} a_n$,

且可以取等号.

证明: 由引理 1, 有

$$\frac{x_1 - 1}{(x_1 + \dots + x_n + 1)^2} \geq \frac{1}{4} \cdot \frac{1}{x_2 + \dots + x_n + 2}$$

$$= \frac{a_1}{x_2 + \dots + x_n + 2},$$

且当 $x_1 = x_2 + \dots + x_n + 3$ 时, 取最大值

$$\frac{a_1}{x_2 + \dots + x_n + 2}.$$

$$\frac{a_1}{x_2 + \dots + x_n + 2} + \frac{x_2 - 2}{(x_2 + \dots + x_n + 2)^2}$$

$$\geq \frac{1}{4} \cdot \frac{(1+a_1)^2}{x_3 + \dots + x_n + 4} = \frac{a_2}{x_3 + \dots + x_n + 4},$$

且当 $x_2 = \frac{(1 - a_1)(x_3 + \dots + x_n + 4) + 4}{1 + a_1}$ 时,取最大值

$$\frac{a_2}{x_3 + \dots + x_n + 4}$$

.....

$$\frac{a_{n-2}}{x_{n-1} + x_n + (n-1) + 1} + \frac{x_{n-1} - (n-1)}{(x_{n-1} + x_n + (n-1) + 1)^2}$$

$$\frac{1}{4} \cdot \frac{(1 + a_{n-2})^2}{x_n + (n) + 1} = \frac{a_{n-1}}{x_n + (n) + 1}$$

且当 $x_{n-1} = \frac{(1 - a_{n-2})(x_n + (n-1) + 1) + 2(n-1)}{1 + a_{n-2}}$

时,取最大值 $\frac{a_{n-1}}{x_n + (n) + 1}$

$$\frac{a_{n-1}}{x_n + (n) + 1} + \frac{x_n - n}{(x_n + (n) + 1)^2}$$

$$\frac{1}{4} \cdot \frac{(1 + a_{n-1})^2}{(n+1) + 1} = \frac{a_n}{(n+1) + 1}$$

n

且当 $x_n = \frac{(1 - a_{n-1})(n+1) + 2n}{1 + a_{n-1}}$ 时,取最大值

$$\frac{a_n}{(n+1) + 1}$$

由 a_1, \dots, a_n 相加,得

$$\sum_{k=1}^n A_k \frac{1}{(n+1) + 1} a_n$$

且当 $x_n = \frac{(1 - a_{n-1})(n+1) + 2n}{1 + a_{n-1}}$,

$$x_{n-1}$$

$=$

$$\frac{(1 - a_{n-2})(x_n + (n-1) + 1) + 2(n-1)}{1 + a_{n-2}}$$

.....

$$x_2 = \frac{(1 - a_1)(x_3 + \dots + x_n + 4) + 4}{1 + a_1}$$

$$x_1 = x_2 + \dots + x_n + 3$$

时,等号成立.

由引理 3,我们得到

$$= \frac{1}{(2\ 003) + 1} = \frac{1}{2\ 003 \times 1\ 001 + 1}$$

三、17 名球迷计划去韩国观看世界杯足球赛,他们共选定 17 场球赛. 预订门票的情况满足下列条件:

- (i) 每人每场至多预订一张门票;
- (ii) 每两人所预订的门票中,至多有一场相同;
- (iii) 预订了 6 张门票的只有一人.

问这些球迷最多共能预订多少张门票? 说明理由.

解:画一个 17×17 的方格表,17 列分别代表 17 场球赛,17 行分别表示 17 人. 如果第 i 人预订了第 j

场的门票,则将方格表中第 i 行第 j 列之交的方格的中心涂成红点. 于是,问题化为表中任何 4 个红点都不是一个边平行于网格线的矩形的 4 个顶点,且表中有一行有 6 个红点的条件下,表中最多能有多少个红点.

不妨设第 1 行的前 6 个方格中心都是红点.

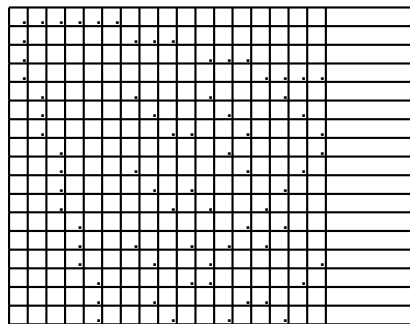
将 17×17 方格表分成 17×6 和 17×11 两部分. 前一部分中第 1 行有 6 个红点,故另外 16 行中每行至多 1 个红点. 所以,这部分中至多有 22 个红点. 第二部分中第 1 行无红点,故实际上是讨论 16×11 的方格表中最多有多少个红点.

设第 i 行中共有 x_i 个红点,并将同行的两个红点称为一个“红点对”. 于是,第 i 行产生 $C_{x_i}^2$ 个“红点对”(这里认为 $C_1^2 = C_0^2 = 0$). 由于表中不许存在边平行于网格线的红顶点矩形,故应有

$$C_{x_1}^2 + C_{x_2}^2 + \dots + C_{x_{16}}^2 \leq C_{11}^2 = 55.$$

容易看出,当 x_1, x_2, \dots, x_{16} 尽量平均(至多相差 1)时,上式左端和数最小,从而, $x_1 + x_2 + \dots + x_{16}$ 最大. 因此,当 x_1, x_2, \dots, x_{16} 中有两个 4 和 14 个 3 时, $C_{x_1}^2 + C_{x_2}^2 + \dots + C_{x_{16}}^2 = 54$, 且 $x_1 + x_2 + \dots + x_{16} = 50$. 易见,若这个表中有 51 个红点,则不可能满足要求. 从而知 17×17 的方格表中至多有 72 个红点.

在下列方格表中,共有 71 个红点,第 1 行的前 6 个方格中心是红点,且任何 4 个红点都不是一个边平行于网格线的矩形的 4 个顶点. 这表明所求的红点个数的最大值 71.



这样,关键在于 72 个红点时能否满足题中要求. 设有 72 个红点满足题中要求. 于是,前 6 列中共有 22 个红点,后 11 列中共有 50 个红点. 由式及其后的推导可知 50 个红点在 16×11 表格中的分布只能有两种不同情形:

- (1) 2 行各 4 个红点,另 14 行各 3 个红点;
- (2) 3 行各 4 个红点、1 行 2 个红点,另 12 行各 3

个红点.

先看(1). 在 17×17 方格表中, 用红点所在方格的列数为红点编号, 设第 1 行的 6 个红点为 1、2、3、4、5、6, 第 2 行的 5 个红点为 1、7、8、9、10. 第 3 行也有 5 个红点, 后 14 行各 4 个红点.

考察 7、8、9、10 这 4 列的红点分布情况. 这时, 后 15 行中每行 4 个方格中至多 1 个红点. 如果某行中有 1 个红点, 则该行最后 7 个方格中的红点数为 2 或 3 (只有 1 行为 3). 由于这 4 列中每列的红点与后 7 列只能组成 7 个不同的“红点对”, 故每列后 15 个方格中至多 3 个红点, 这 4 列组成的 17×4 的方格表中至多 16 个红点.

去掉前 2 行与前 10 列, 至多去掉 $22 + 16 = 38$ 个红点, 余下的 15×7 的方格表中至少还有 34 个红点, $34 = 3 \times 4 + 2 \times 11$. 这些红点至少构成

$$3 \times 4 + 11 = 23$$

个不同的“红点对”, $23 > 21 = C_7^2$, 必导致边平行于网格线的红顶点矩形, 矛盾.

再看(2). 设第 1 行的 6 个红点为 1、2、3、4、5、6, 第 2 行的 5 个红点为 1、7、8、9、10. 第 3、4 行各 5 个红点, 最后一行 3 个红点, 其余 12 行各 4 个红点.

还是考察 7、8、9、10 四列的红点分布情况. 如果仍是至多 16 个红点, 则像(1)中那样可导出矛盾. 但是, 由于最后一行只有 3 个红点, 其中之一在前 6 个方格中. 如果 7、8、9、10 四格中没有, 则只能是上述情形; 如果 7、8、9、10 四格中有 1 个红点, 则后 7 格中只有一个红点, 这可导致 7、8、9、10 四列构成的 17×4 的方格表中共有 17 个红点, 后 7 列的 15×7 的方格表中恰有 33 个红点, 其中最后一行只有 1 个红点. 去掉最后一行, 余下的 14×7 方格表中共有 32 个红点, $32 = 3 \times 4 + 2 \times 10$, 形成的“红点对”个数至少为

$$3 \times 4 + 10 = 22 > 21 = C_7^2.$$

矛盾.

综上所述, 17 人最多能预订 71 张门票.

四、(a) 求所有自然数 $n(n \geq 2)$, 使得存在实数 a_1, a_2, \dots, a_n , 满足

$$|a_i - a_j| \mid 1 \quad i < j \quad n \} = \left\{ 1, 2, \dots, \frac{n(n-1)}{2} \right\}.$$

(b) 设 $A = \{1, 2, 3, 4, 5, 6\}$, $B = \{7, 8, 9, \dots, n\}$. 在 A 中取三个数、 B 中取两个数组成五个元素的集合 $A_i, i = 1, 2, \dots, 20, |A_i \cap A_j| = 2, 1 \quad i < j \quad 20$. 求 n 的最小值.

解: (a) a_1, \dots, a_n 有如下性质:

(i) a_1, \dots, a_n 两两不等;

(ii) 它们差的绝对值两两不等.

于是, $n = 2, a_1 = 0, a_2 = 1$;

$n = 3, a_1 = 0, a_2 = 1, a_3 = 3$;

$n = 4, a_1 = 0, a_2 = 2, a_3 = 5, a_4 = 6$.

下证当 $n \geq 5$ 时, 不存在 a_1, \dots, a_n 适合题设条件.

证法一: 令 $0 = a_1 < a_2 < \dots < a_n, b_i = a_{i+1} - a_i, i = 1, 2, \dots, n-1$. 则当 $i < j$ 时,

$$|a_i - a_j| = a_j - a_i = b_i + b_{i+1} + \dots + b_{j-1},$$

$1 \leq i < j \leq n$.

显然, $\max_{1 \leq i < j \leq n} |a_i - a_j| = |a_1 - a_n| = a_n$. 所以,

$$a_n = \frac{n(n-1)}{2},$$

即 $a_n - a_1 = a_n = b_1 + \dots + b_{n-1} = \frac{n(n-1)}{2}$.

注意到 b_1, \dots, b_{n-1} 两两不等, 总和为 $1 + 2 + \dots + (n-1)$, 且 b_1, \dots, b_n 都不等于零, 所以, b_1, \dots, b_{n-1} 为 $1, 2, \dots, n-1$ 的一个排列. 注意到

$$b_i + \dots + b_{j-1}, 1 \leq i < j \leq n$$

为 $1, 2, \dots, \frac{n(n-1)}{2}$ 的一个排列, 所以,

$$b_i + b_{i+1} \leq n, i = 1, 2, \dots, n-1.$$

设 $b_i = 1, 2 \leq i \leq n-2$, 则 $b_{i-1} + b_i \leq n, b_{i+1} + b_i \leq n$. 这证明了 $b_{i-1}, b_{i+1} \leq n-1$. 所以 $b_{i-1} = b_{i+1} = n-1$. 这导出矛盾. 因此, 只有 $b_1 = 1$ 或 $b_{n-1} = 1$, 且 $b_2 = n-1$ 或 $b_{n-2} = n-1$.

设 $b_1 = 1, b_2 = n-1$, 则 $b_1 + b_2 = n$. 所以, $b_i + b_{i+1} > n, i > 1$. 已知存在指标 $i, b_{i+1} = 2$. 于是, $b_i > n-2$. 所以, $b_i = n-1$. 这推出 $b_3 = 2, b_4 = n-2$. 这时, $b_1 + b_2 = b_3 + b_4$. 导出矛盾. 所以, 当 $n-1 \geq 4$ 时, 即 $n \geq 5$ 时不存在 a_1, \dots, a_n 适合题设条件.

设 $b_{n-1} = 1, b_{n-2} = n-1$. 同上法讨论仍得 $n \geq 5$ 时不存在 a_1, \dots, a_n 适合题设条件.

证法二: 令 $0 = a_1 < a_2 < \dots < a_n$, 易知

$$a_n = \frac{n(n-1)}{2}.$$

这时, 必存在某两个下标 $i < j$, 使得 $|a_i - a_j| = a_n - 1$. 所以,

$$a_n - 1 = a_{n-1} - a_1 = a_{n-1} \quad \text{或} \quad a_n - 1 = a_n - a_2,$$

即 $a_2 = 1$.

所以, 出现 $a_n = \frac{n(n-1)}{2}$, $a_{n-1} = a_n - 1$, 或 $a_n = \frac{n(n-1)}{2}$, $a_2 = 1$.

下面分情形讨论:

(i) 设 $a_n = \frac{n(n-1)}{2}$, $a_{n-1} = a_n - 1$.

考虑 $a_n - 2$, 有 $a_n - 2 = a_{n-2}$ 或 $a_n - 2 = a_n - a_2$, 即 $a_2 = 2$. 设 $a_{n-2} = a_n - 2$, 则 $a_{n-1} - a_{n-2} = 1 = a_n - a_{n-1}$. 这导出矛盾. 所以, 只有 $a_2 = 2$.

考虑 $a_n - 3$, 有 $a_n - 3 = a_{n-2}$ 或 $a_n - 3 = a_n - a_3$, 即 $a_3 = 3$. 设 $a_{n-2} = a_n - 3$, 则 $a_{n-1} - a_{n-2} = 2 = a_2 - a_0$. 这推出矛盾. 设 $a_3 = 3$, 则 $a_n - a_{n-1} = 1 = a_3 - a_2$, 又推出矛盾. 所以这种情形不出现, 条件为 $a_{n-2} = a_2$, 即 $n = 4$. 故当 $n \geq 5$, 不存在.

(ii) $a_n = \frac{n(n-1)}{2}$, $a_2 = 1$.

考虑 $a_n - 2$, 有 $a_n - 2 = a_{n-1}$ 或 $a_n - 2 = a_n - a_3$, 即 $a_3 = 2$. 这时 $a_3 - a_2 = a_2 - a_1$, 推出矛盾. 所以,

$$a_{n-1} = a_n - 2.$$

考虑 $a_n - 3$, 有 $a_n - 3 = a_{n-2}$ 或 $a_n - 3 = a_n - a_3$, 即 $a_3 = 3$. 于是, $a_3 - a_2 = a_n - a_{n-1}$. 矛盾. 因此, $a_{n-2} = a_n - 3$. 所以, $a_{n-1} - a_{n-2} = 1 = a_2 - a_1$. 这又矛盾. 所以只有 $a_{n-2} = a_2$, 即 $n = 4$. 故当 $n \geq 5$ 时, 不存在.

证法三: 考虑母函数 $x^{a_1} + x^{a_2} + \dots + x^{a_n}$. 由题设

$$(x^{a_1} + x^{a_2} + \dots + x^{a_n})(x^{-a_1} + x^{-a_2} + \dots + x^{-a_n}) = n - 1 + x^{-\frac{n(n-1)}{2}} + \dots + x^{-1} + 1 + x + \dots + x^{\frac{n(n-1)}{2}}$$

$$= n - 1 + \frac{x^{-\frac{n(n-1)}{2}} + 1 - x^{-\frac{n(n-1)}{2}}}{x - 1}.$$

取 $x = e^{2i} = (\cos 2 + i \sin 2)$, $x \neq 1$.

由 $e^{-i} = e^i$, 所以,

$$|e^{2ia_1} + \dots + e^{2ia_n}|^2 = n - 1 + \frac{e^{2i} e^{in(n-1)} - e^{-in(n-1)}}{e^{2i} - 1}$$

$$= n - 1 + \frac{\sin(n^2 - n + 1)}{\sin}.$$

取 $(n^2 - n + 1) = \frac{3}{2}$, 则 $\frac{3}{2(n^2 - n + 1)}$.

当 $n = 5$ 时,

$$0 < \frac{3}{2(5^2 - 5 + 1)} = \frac{3}{14} < \frac{1}{2}.$$

这时, $\sin < \frac{1}{2}$, $\sin(n^2 - n + 1) = -1$. 代入, 得

$$|e^{2ia_1} + \dots + e^{2ia_n}|^2 = n - 1 - \frac{1}{\sin} < n - 1 - \frac{1}{2}$$

$$= n - 1 - \frac{2(n^2 - n + 1)}{3} < n - 1 - \frac{2(n^2 - n)}{3}$$

$$= (n - 1) \left(1 - \frac{2n}{3}\right) - (n - 1) \left(1 - \frac{10}{3}\right) < 0.$$

这就导出矛盾. 所以, 当 $n \geq 5$ 时, 不存在 a_1, \dots, a_n .

(b) n 的最小值是 16.

设 B 中每个数在所有 A_i 中最多重复出现 k 次, 必有 $k \geq 4$. 若不然, 数 m 出现 k 次, $k > 4, 3k > 12$, 在 m 出现的所有 A_i 中, 至少有一个 A 的数出现 3 次. 不妨设它是 1, 就有集合 $\{1, a_1, a_2, m, b_1\}, \{1, a_3, a_4, m, b_2\}, \{1, a_5, a_6, m, b_3\}$, 其中 $a_i \in A, 1 \leq i \leq 6$. 为了满足题意, a_i 必须各不相同, 但只能是 2, 3, 4, 5, 6 五个数. 这是不可能的.

$k = 4$, 20 个 A_i, B 中数有 40 个, 因此至少有 10 个不同的, $6 + 10 = 16$, 有 $n \geq 16$. 当 $n = 16$ 时, 可作出如下 20 个集合:

- $\{1, 2, 3, 7, 8\}$ $\{1, 2, 4, 12, 14\}$ $\{1, 2, 5, 15, 16\}$
- $\{1, 2, 6, 9, 10\}$ $\{1, 3, 4, 10, 11\}$ $\{1, 3, 5, 13, 14\}$
- $\{1, 3, 6, 12, 15\}$ $\{1, 4, 5, 7, 9\}$ $\{1, 4, 6, 13, 16\}$
- $\{1, 5, 6, 8, 11\}$ $\{2, 3, 4, 13, 15\}$ $\{2, 3, 5, 9, 11\}$
- $\{2, 3, 6, 14, 16\}$ $\{2, 4, 5, 8, 10\}$ $\{2, 4, 6, 7, 11\}$
- $\{2, 5, 6, 12, 13\}$ $\{3, 4, 5, 12, 16\}$ $\{3, 4, 6, 8, 9\}$
- $\{3, 5, 6, 7, 10\}$ $\{4, 5, 6, 14, 15\}$

五、设 k 为给定的整数, $f(n)$ 是定义在负整数集上且取值为整数的函数, 满足

$$f(n)f(n+1) = (f(n) + n - k)^2,$$

$$n = -2, -3, -4, \dots$$

求函数 $f(n)$ 的表达式.

解: 引理 存在无穷多个不是形如 $5k \pm 1$ 的素数.

证明: 对任给正整数 n , 考虑

$$N = 5[1 \cdot 3 \cdot 5 \cdot \dots \cdot (2n+1)]^2 + 2.$$

由于形如 $5k \pm 1$ 的整数之积仍是形如 $5k \pm 1$ 的数, $N \equiv 2 \pmod{5}$, 故 N 有形如 $5k \pm 2$ 的素因子, 它大于 $2n+1$. 引理得证.

取素数 $p > 10(|k| + 1)$, $p \not\equiv \pm 1 \pmod{5}$. 先证明 $f(k-p) = p^2$.

$$\text{由 } f(k-p)f(k-p+1) = [f(k-p) - p]^2 \text{ 知}$$

$$f(k-p) | p^2.$$

因此, $f(k-p) = \pm 1, \pm p, \pm p^2$.

注意到

$$f(k-p-1)f(k-p) = [f(k-p-1) - p-1]^2.$$

考虑 $ax = (x - p - 1)^2$,
 即 $x^2 - (2p+2+a)x + (p+1)^2 = 0$.
 它的判别式
 $(a) = (2p+2+a)^2 - 4(p+1)^2 = a(a+4p+4)$.
 因为 $(1) = 4p+5 \not\equiv 2 \pmod{5}$,
 $(-1) = -(4p+3) < 0$,
 $(p) = p(5p+4)$ 不是平方数,
 $(-p) = -p(3p+4) < 0$,
 $(-p^2) = p^2(p^2 - 4p - 4) \not\equiv \pm 2 \pmod{5}$,

由此推出 $(1), (-1), (p), (-p), (-p^2)$
 均不是平方数. 故

$f(k-p) = p^2$.
 由 $f(k-p)f(k-p+1) = [f(k-p) - p]^2$ 知
 $f(k-p+1) = (p-1)^2$.
 由 $f(k-p+1)f(k-p+2) = [f(k-p+1) - p + 1]^2$ 知
 $f(k-p+2) = (p-2)^2$.

如此继续, 得到
 $f(k-p+t) = (p-t)^2, 0 \leq t \leq p$ 且 $t < p-k$,
 即 $f(n) = (n-k)^2, k-p \leq n \leq k$ 且 $n < 0$.

由于 p 可任意大, 有
 $f(n) = (n-k)^2, n \leq k$ 且 $n < 0$.

下面按 k 的大小讨论:

情形 1 $k = -1$. 由以上结论知
 $f(n) = (n-k)^2, n = -1, -2, \dots$

情形 2 $k = -2$. 由以上结论知
 $f(n) = (n-k)^2, n = -2, -3, \dots$

由 $f(-2)f(-1) = [f(-2) + 0]^2$ 知 $f(-1)$ 可取
 任意整数. 此时

$$f(n) = \begin{cases} a, & n = -1, \\ (n+2)^2, & n = -2, -3, \dots \end{cases}$$

其中 a 为任意整数.

情形 3 $k = -3$. 此时,
 $f(n) = (n-k)^2, n = -3, -4, \dots$
 又 $f(-3)f(-2) = [f(-3) + 0]^2$,
 $f(-2)f(-1) = [f(-2) + 1]^2$,

故 $f(-2) = \pm 1$.
 若 $f(-2) = 1$, 则 $f(-1) = 2^2$;
 若 $f(-2) = -1$, 则 $f(-1) = 0$.

$$\text{此时 } f(n) = \begin{cases} 0, & n = -1, \\ -1, & n = -2, \\ (n+3)^2, & n = -3 \end{cases}$$

$$\text{或 } f(n) = \begin{cases} 2^2, & n = -1, \\ 1, & n = -2, \\ (n+3)^2, & n = -3. \end{cases}$$

情形 4 $k = -4$.
 由 $f(k+1)f(k+2) = [f(k+1) + 1]^2$
 知 $f(k+1) = \pm 1$.

假设 $f(k+1) = -1$, 由 知 $f(k+2) = 0$.
 又 $f(k+2)f(k+3) = [f(k+2) + 2]^2$,
 则 $0 = 2^2$, 矛盾. 因此, $f(k+1) = 1$.

由 知 $f(k+2) = 2^2$,
 由 $f(k+2)f(k+3) = [f(k+2) + 2]^2$ 知
 $f(k+3) = 3^2$.

如此下去, 有
 $f(k+t) = t^2, t = k-1$.

此时 $f(n) = (n-k)^2, n = -1, -2, \dots$

六、设 $f(x_1, x_2, x_3) = -2(x_1^3 + x_2^3 + x_3^3) + 3[x_1^2(x_2 + x_3) + x_2^2(x_3 + x_1) + x_3^2(x_1 + x_2)] - 12x_1x_2x_3$.

对于任意实数 r, s, t , 记
 $g(r, s, t) = \max_{t, x_3} |f(r, r+2, x_3) + s|$.

求函数 $g(r, s, t)$ 的最小值.

解: 令 $x = x_3 - (r+1)$, 则
 $f(r, r+2, x_3)$
 $= -2[r^3 + (r+2)^3 + (x+r+1)^3]$
 $+ 3[r^2(x+2r+3) + (r+2)^2(x+2r+1)$
 $+ (x+r+1)^2(2r+2)] - 12r(r+2)(x+r+1)$
 $= -2x^3 + 18x$.

令 $a = t - (r+1)$, 则
 $g(r, s, t) = \max_x | -2x^3 + 18x + s |$.

由于 $\max_x | -2x^3 + 18x + s |$
 $= \frac{1}{2} [\max_x (-2x^3 + 18x + s) - \min_x (-2x^3 + 18x + s)]$
 $= \frac{1}{2} [\max_x (-2x^3 + 18x) - \min_x (-2x^3 + 18x)]$,

所以, $g(r, s, t)$
 $= \frac{1}{2} [\max_x (-2x^3 + 18x) - \min_x (-2x^3 + 18x)]$.

记 $P(x) = -2x^3 + 18x$. 任取 $x < y$, 则
 $P(x) - P(y) = -2(x-y)[x^2 + xy + y^2 - 9]$.
 显然, 当 $x < y = \sqrt{3}$ 时或当 $\sqrt{3} < x < y$ 时, 有
 $x^2 + xy + y^2 - 9 > 0$;
 当 $-\sqrt{3} < x < y < \sqrt{3}$ 时,
 $x^2 + xy + y^2 - 9 < 0$.
 从而, 当 $x = \sqrt{3}$ 或 $x = -\sqrt{3}$ 时, 函数 $P(x)$ 严格单调减小; 当 $-\sqrt{3} < x < \sqrt{3}$ 时, $P(x)$ 严格单调增加.

由于 $P(-\sqrt{3}) = -12\sqrt{3}$, 所以 $P(x) = -12\sqrt{3}$ 等价于 $P(x) = P(-\sqrt{3})$, 即

$$-2(x+\sqrt{3})(x^2-\sqrt{3}x+3-9) = -2(x+\sqrt{3})^2(x-2\sqrt{3}) = 0.$$

于是, $P(2\sqrt{3}) = -12\sqrt{3}$.

同理, $P(-2\sqrt{3}) = 12\sqrt{3}$.

由此可知,

在 $(-2\sqrt{3}, 2\sqrt{3})$ 内, $P(x)$ 有惟一的最小点 $x = -\sqrt{3}$ 和惟一的极大点 $x = \sqrt{3}$. 又 $P(-3) = P(0) = P(3) = 0$, 从而函数 $P(x)$ 的图像如图 3 所示.

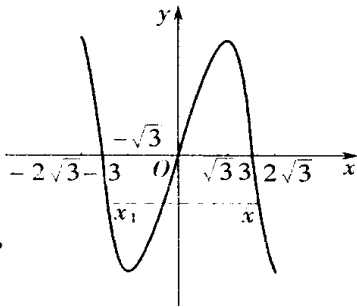


图 3

记 $W(a) = \max_{x \in [a, a+2]} P(x) - \min_{x \in [a, a+2]} P(x)$.

当 $a+2 \leq -\sqrt{3}$, 即 $a \leq -2-\sqrt{3}$ 时, 由于 $P(x)$ 在 $[a, a+2]$ 严格单调减小, 所以,

$$\begin{aligned} W(a) &= P(a) - P(a+2) \\ &= -2[a^3 - (a+2)^3] + 18[a - (a+2)] \\ &= 12a^2 + 24a - 20 = 12(a+1)^2 - 32 \\ &= 12(\sqrt{3}+1)^2 - 32 = 24\sqrt{3} + 16. \end{aligned}$$

同理, 当 $a \geq \sqrt{3}$ 时, $W(a) = 24\sqrt{3} + 16$.

取 $\bar{x} > 0$ 满足

$$P(x) = P(\bar{x})$$

有三个不同实根 $x_1 < x_2 < \bar{x}$ 且 $x_2 - x_1 = 2$. 由于 $P(x) - P(\bar{x}) = -2(x - \bar{x})(x^2 + \bar{x}x + \bar{x}^2 - 9)$, 从而 x_1, x_2 应为方程 $x^2 + \bar{x}x + \bar{x}^2 - 9 = 0$ 的两个根. 又 $x_2 - x_1 = 2$, 所以,

$$\bar{x}^2 - 4(\bar{x}^2 - 9) = 4, \quad \text{即 } 3\bar{x}^2 = 32.$$

$$\text{于是, } \bar{x} = 4\sqrt{\frac{2}{3}} = \frac{4\sqrt{6}}{3},$$

$$P(\bar{x}) = -2 \times \frac{4}{3} \sqrt{6} \left[\frac{32}{3} - 9 \right] = -\frac{40\sqrt{6}}{9},$$

$$x_1 = -\frac{\bar{x}}{2} - 1 = -\frac{2\sqrt{6}}{3} - 1,$$

$$x_2 = -\frac{\bar{x}}{2} + 1 = -\frac{2\sqrt{6}}{3} + 1.$$

显然, $-2\sqrt{3} < x_1 < -\sqrt{3}$, $-\sqrt{3} < x_2 < 0$,

$$\begin{aligned} \text{且 } W(x_1) &= P(x_1) - P(-\sqrt{3}) = P(\bar{x}) - P(-\sqrt{3}) \\ &= 12\sqrt{3} - \frac{40\sqrt{6}}{9}. \end{aligned}$$

当 $-2-\sqrt{3} < a < x_1$ 时, $-\sqrt{3} < a+2 < x_1+2 = x_2$. 由于 $P(x)$ 在 $[a, x_1]$ 严格单减, 从而 $P(a) > P(x_1) > P(-\sqrt{3})$. 又 $P(x)$ 在 $[-\sqrt{3}, x_2]$ 严格单增, 所以 $P(-\sqrt{3}) < P(a+2) < P(x_2) = P(x_1)$. 于是, 可得

$$W(a) = P(a) - P(-\sqrt{3}) = P(x_1) - P(-\sqrt{3}) = W(x_1).$$

当 $x_1 < a < -\sqrt{3}$ 时, 则 $x_2 = x_1+2 < a+2 < -2-\sqrt{3} < -\sqrt{3}$. 从而, $P(a+2) > P(x_2) = P(x_1) > P(a)$.

于是可得

$$W(a) = P(a+2) - P(-\sqrt{3})$$

$$= P(x_1) - P(-\sqrt{3}) = W(x_1).$$

由此可得当 $-2-\sqrt{3} < a < -\sqrt{3}$ 时, $W(a) = W(x_1)$. 由 $P(x)$ 的图像关于原点的对称性可证当

$\sqrt{3} - 2 < a < \sqrt{3}$ 时, $W(a) = W(-x_2) = W(x_1)$.

当 $-\sqrt{3} < a < \sqrt{3} - 2$ 时, 则 $-\sqrt{3} < a < a+2 < \sqrt{3}$.

由于 $P(x)$ 单增, 所以

$$\begin{aligned} W(a) &= P(a+2) - P(a) = -12a^2 - 24a + 20 \\ &= -12(a+1)^2 + 32 = -12(1-\sqrt{3})^2 + 32 \\ &= 24\sqrt{3} - 16. \end{aligned}$$

显然, $24\sqrt{3} + 16 > 12\sqrt{3} - \frac{40\sqrt{6}}{9}$, $24\sqrt{3} - 16 > 12\sqrt{3} - \frac{40\sqrt{6}}{9}$. 于是,

$$\min_{a \in \mathbf{R}} W(a) = W(x_1) = 12\sqrt{3} - \frac{40\sqrt{6}}{9}.$$

$$\text{由 (1) 可知 } g(r, s, t) = \frac{1}{2} W(x_1) = 6\sqrt{3} - \frac{20\sqrt{6}}{9}.$$

由以上证明可知任取实数 r ,

$$t = x_1 + (r+1) = -\frac{2\sqrt{6}}{3} - 1 + (r+1),$$

$$s = -\frac{1}{2} \left[\max_{x_1 \leq x \leq x_1+2} P(x) + \min_{x_1 \leq x \leq x_1+2} P(x) \right],$$

$$\text{易知 } g(r, s, t) = \frac{1}{2} W(x_1) = 6\sqrt{3} - \frac{20\sqrt{6}}{9}.$$

$$\text{于是, } \min_{r, s, t \in \mathbf{R}} g(r, s, t) = 6\sqrt{3} - \frac{20\sqrt{6}}{9}.$$

(李胜宏 提供)